



Kulleġġ San Tumas More

Skejjel Primarji

Eżami ta' Nofs is-Sena

STUDJI SOĊJALI

Ir-Rabà Sena

Frar 2015

Hin: Siegħa

Isem: _____

Klassi: _____

Total ta' marki:



A. Ikteb VERU jew FALZ

1. F'Malta għandna ħafna xmajjar.	
2. Fis-sajf il-widien ta' Malta jinxfu.	
3. F'Malta m'għandniex muntanji.	
4. Ir-rapport tat-temp jaslilna mill-Uffiċċju Meteorologiku.	
5. Ir-riħ isfel huwa riħ li jnixxef ħafna.	
6. It-temp jinbidel skont l-istaġun.	
7. Fir-rebbiegħa s-siġar iwaqqgħu l-weraq.	
8. F'Malta għandna klima Mediterranja.	
9. Fix-xitwa l-ġurnata titwal ħafna.	
10. Fl-Awstralja l-Milied jigi fis-sajf.	

(10 marki)

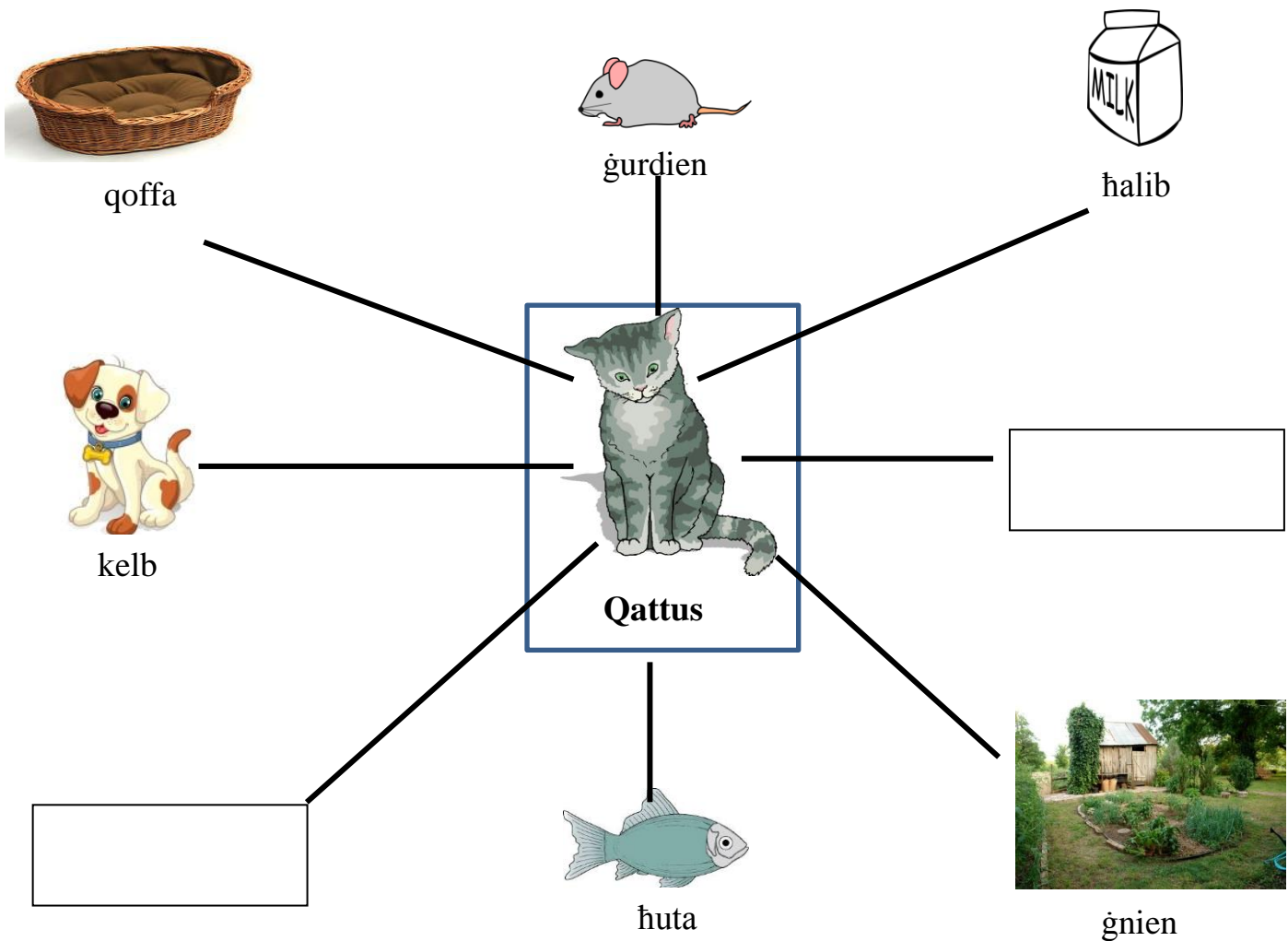
B. Aqta' linja taht it-tajba billi tirrispondi dwar iċ-ċiklu tal-ilma.

1. L-ilma jġi l-iktar (mix-xita, mill-kesħa, mir-riħ).
2. Ix-xemx (issahħan, taħsel, issaqqi) l-ilma li hemm f' bosta postijiet.
3. L-ilma jsir fwar u (jinzel 'l isfel, jitla' 'l fuq, jmur fil-bir).
4. Meta l-ilma jiksah isir (sajjetti, ragħad, šhab).
5. Meta s-šhab jitqal tagħmel (il-ħamrija, ix-xita, il-kesħa).

(5 marki)



Ċ. Wieġeb bl-ghajnuna tal-pjanta billi tikteb id-direzzjonijiet



1. Il-qattus sejjer passigġata. Lejn liema direzzjoni sejjer jekk:

a) sejjer hdejn il-gurdien?	Tramuntana
b) irid jixrob il-ħalib?	
ċ) sejjer jiekol il-huta?	
d) se jmur sal-ġnien?	
e) ħa jżur il-kelb?	
f) se jmur jorqod fil-qoffa?	

2. Fadal żewġ direzzjonijiet oħra. Ikteb dawn id-direzzjonijiet fil-kaxxi li hemm fil-pjanta. (7 marki)

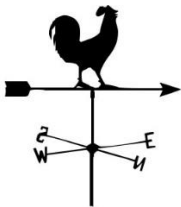
D. Kull strument għandu sentenza li MHIX VERA. Immarka liema hi b'salib (X).

1.



Dan l-istrument jissejjaħ termometru.	
Ikejjeġ kemm tkun kesha jew shana.	
It-temperatura nkejlaha bil-millimetri.	

2.



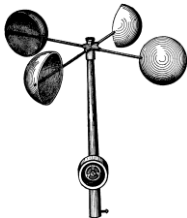
Il-pinnur jurina l-qawwa tar-riħ.	
Narawh fuq xi bejt jew xi post għoli.	
Il-Punent huwa wieħed mid-direzzjonijiet li juri l-pinnur.	

3.



Il-pluvjometru jkejjeġ kemm tinżel xita.	
Ix-xita nkejlaha bi gradi Celsius.	
Pluvjometru u 'rain gauge' huma l-istess.	

4.



L-anemometru jkejjeġ il-qawwa tar-riħ.	
Għandu speċi ta' kikkri li jduru bir-riħ.	
L-anemometru npoġġuh taħt xi haġt.	

(4 marki)



E. Ir-Rapport tat-Temp. Imla' l-vojt billi taghzel minn dan il-kliem li ġej.

Awwissu	9.1 millimetri	moderat mil-Lbiç
Frar	3	maltempati bir-raghad
sabiħ u xemxi	10	qawwi mill-Grigal

Rapport Numru 1

Temperatura	8 gradi Celsius
Temp	
Rih	
Xita	
Xahar	
UV Index	

Rapport Numru 2

Temperatura	35 gradi Celsius
Temp	
Rih	
Xita	Xejn
Xahar	
UV Index	

(9 marki)

F. Ikteb il-kliem li ġej taht il-kolonna t-tajba



tibda l-iskola	nieklu l-figolli	nixegħlu l-fann	nieklu d-dulliegh
nixegħlu l-ħiter	il-Milied	San Martin	l-arja tiffriška
immorru l-baħar	gakketta ħoxna	Mejju	l-Għid il-kbir

<u>Ix-xitwa</u>	<u>Ir-rebbiegha</u>

<u>Is-sajf</u>	<u>Il-harifa</u>

(12-il marka)

Ġ. Qabbel dawn li ġejjin billi tikteb n-numru fil-kaxxa l-vojt



1.	Tromba		Meta ddum hafna ma tagħmel xita.
2.	Ċiklun		Meta tagħmel hafna xita f'daqqa.
3.	Nixfa		Riħ li jobrom u jdur fit-tond.
4.	Ghargħar		Maltempata kbira b'hafna xita u riħ qawwi.

(4 marki)

Pawlu l-bidwi ghandu ghalqa.



Meta tagħmel **hafna xita** jiltaqa' ma' hafna problemi. Semmi tnejn minnhom:

1) _____

2) _____

Semmi żewġ problemi li jiltaqa' magħhom meta tagħmel **nixfa kbira**.

1) _____

2) _____

(4 marki)

G. Ikteb DRAWWA li l-Maltin ihobbu jaghmlu f'dawn il-festi

1. Il-Milied:



2. L-Imnarja:



3. Il-festa tar-raħal:



(6 marki)

GH. Dahhal il-frazzjiet taht il-kolonna t-tajba

il-kaċċa	dawl elettriku	għana bil-kitarra
tigrijiet taż-żwiemel	festivals tal-kant	logħob barra t-triq
dawl tax-xemgħa	logħob bil-kompjuter	osservazzjoni tal-għasafar

<u>L-imghoddi</u>	<u>Ilum</u>	<u>L-imghoddi u Ilum</u>

(9 marki)



