



Kulleġġ San Tumas More

Skejjel Primarji

Eżami ta' Nofs is-Sena

STUDJI SOĊJALI

Ir-Raba' Sena

Frar 2018

Ħin: 60 minuta

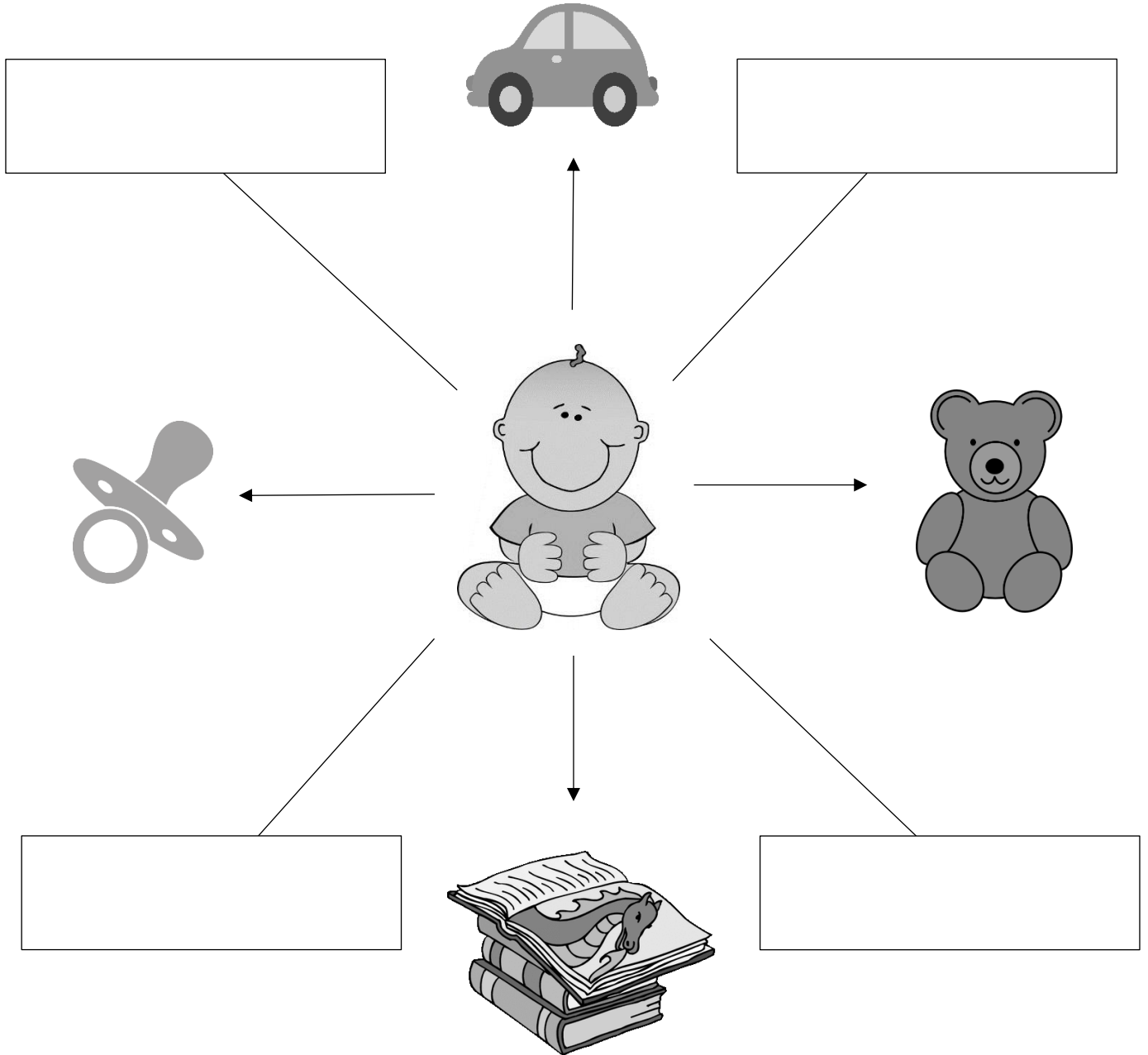
Isem: _____

Total ta' marki:

Klassi: _____

Il-Warda tal-Irjiegħ

Taħriġ A: Mark għadu tarbija u nesa fejn poġġa l-affarijiet. Tista' tghinu billi timla l-vojt bid-direzzjonijiet.




(4 marki)

Issa wieġeb dawn il-mistoqsijiet:

1. Mark jixtieq jaqra ktieb. Liema direzzjoni jrid imur? _____
2. Mark beda mixi 'l fuq biex jaqbad il-karozza. Liema direzzjoni sejjer?

3. Mark tilef l-ors favorit tiegħu. Tista' tgħinu jsibu billi tikteb id-direzzjoni li jrid imur? _____
4. Mark qed jibki għax irid il-gažaża. F'liema direzzjoni jrid imur biex isibha?

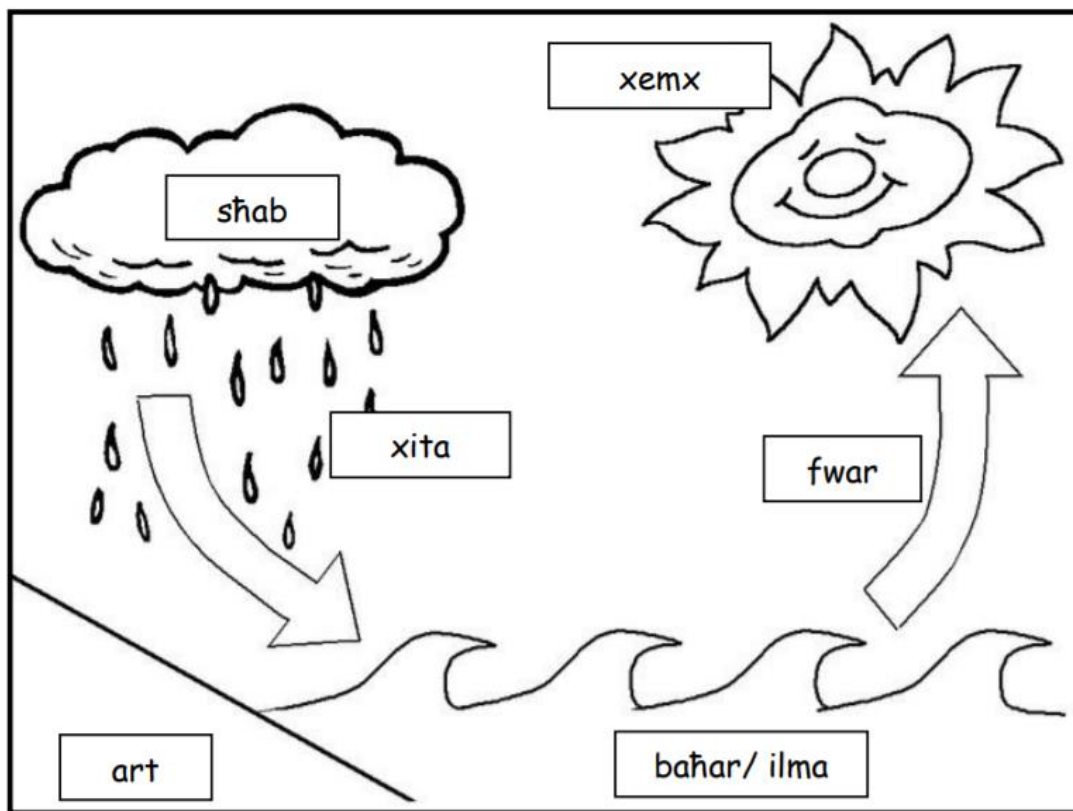
(4 marki)



Iċ-Ċiklu tal-Ilma

Taħriġ B: Hares lejn din l-istampa u imla l-vojt bil-kliem mogħti:

evapora, raġġi, hwejjeġ, jitqal, xita, widien, fwar, ċiklu







Il-proċess li qed taraw fl-istampa nsejħulu ċ-_____ tal-ilma. Dan jurina kif tinżel ix-xita. Ix-xemx tiġbed l-ilma lejha permezz tar-_____. L-ilma jišhon u jsir _____. Ix-xemx tiġbor l-ilma minn bosta postijiet, per eżempju mill-baħar, mill-_____, mix-xmajjar jew mill-_____ minxura. Meta l-ilma jsir fwar u jitla' 'l fuq, ngħidu li _____. Is-sħab jaħžen dan il-qtar tal-ilma u jibda jiskura u _____. Meta s-sħab ma jkunx jiflaħ aktar, l-ilma mis-sħab jerġa' jinżel lejn l-art bħala _____.

(8 marki)

L-Istrumenti tat-Temp

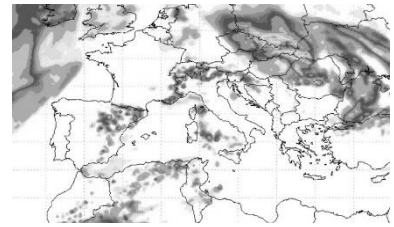
Taħriġ Ċ: Imla l-vojt b'dawn il-kliem:

L-anemometru	d-direzzjoni	Il-pinnur	xita
pluvjometru	it-temperatura	It-termometru	qawwa

<p>1.</p> 	<p>_____ jurina _____ tar-riħ.</p>
<p>2.</p> 	<p>_____ juri l-_____ jew forza tar-riħ.</p>
<p>3.</p> 	<p>_____ jkejjel _____ jigifieri kemm hi shana jew kesha.</p>
<p>4.</p> 	<p>Il- _____ jkejjel l-ammont ta' _____ li tagħmel.</p>

(8 marki)

Ir-Rapport tat-Temp



Taħriġ D: Aqra sew dan ir-rapport tat-temp u imla t-tabella:

Insellmilkom. Dan huwa r-rapport tat-temp għal għada s-Sibt 10 ta' Frar, 2018. It-temp mistenni jkun ffit imsaħħab bil-possibilità ta' ħalba xita wara nofsinhar. It-temperatura mistennija titla' għal 14 -il grad Celsius u matul il-lejl tinżel għal 9 gradi Celsius. Ir-riħ se jkun qawwi għal qawwi ħafna mill-Grigal. Il-baħar se jkun qawwi. It-temperatura tal-baħar se tkun ta' 15 -il grad Celsius. Ir-raġġi UV se jkunu 3. Grazzi tal-attenzjoni u nixtiqilkom il-lejl it-tajjeb.

Ġurnata:	Is-Sibt
Data:	
Stagun:	
Temp:	
L-ogħla temperatura:	
L-inqas temperatura:	
Riħ:	
Temperatura tal-baħar:	
Raġġi UV:	

(8 marki)

L-Istaġuni madwar id-Dinja

Taħriġ E: Qabbel is-sentenzi billi tikteb in-numri quddiem kolonna B:

1.	F' Malta u fil-pajjiżi tal-Mediterran,		fis-sajf
2.	L-istaġuni mhumiex l-istess		fl-Ewropa jkun is-sajf
3.	Il-pajjiżi tal-Amerika t'Isfel li jinsabu qrib l-Ekwatur (eż: il-Brazil)	1	il-klima tkun sħuna u niexfa fis-sajf imma kiesha u mxarrba fix-xitwa
4.	Fl-Indja		ikollhom ħafna xita kif ukoll ħafna sħana s-sena kollha.
5.	Fl-Awstralja l-Milied jiġi ċcelebrat		fl-Afrika kollha.
6.	Waqf li fl-Awstralja tkun ix-xitwa		il-klima tkun sitt xhur xita u sitt xhur niexfa.



(5 marki)

Tempi Estremi

Taħriġ F: Ikteb Veru jew Falz

1. Ikollna urugan meta tagħmel ħafna xita f'daqqa.	FALZ
2. 'Temp estrem' tfisser kundizzjonijiet tat-temp fl-aħjar tiegħu.	
3. Meta ddum ħafna ma tagħmel ix-xita jkollna nixfa.	
4. Maltempati kbar b'ħafna xita u riħ qawwi li jibdew mill-Oċean Atlantiku, insejħulhom ċikluni.	
5. Riħ li jobrom u jdur fit-tond ngħidulu tromba.	
6. Il-kundizzjonijiet tat-temp estrem ma jistgħux jagħmlu ħsarat kbar.	
7. Il-bidwi għandu bżonn l-ilma tax-xita, ħamrija fertili u s- sħana tax-xemx.	
8. In-nixfa ma taffettwax lis-siġar, il-ħaxix u l-animali.	

(7 marki)

Taħriġ Ġ: Ikteb Ffin Liberu jew Xogħol :

Eżempju	Nilgħab bil-Playstation	Ffin Liberu
1.	Nagħmel il-ħowmwerk	
2.	Nara t-televixin	
3.	Naqra ktieb li jogħgobni	
4.	Nizbarazza l-kamra tiegħi	
5.	Naħsel il-platti biex ngħin	
6.	Inpingi xi ħaġa li nħobb	
7.	Immur għal-lezzjoni tal-Mużika	
8.	Nilgħab m'oħti	
9.	Immur nixtri mingħand tal-merċa	
10.	Immur il-bandli	

(10 marki)

Taħriġ H: Wieġeb dawn:

1. Semmi żewġ (2) logħbiet li kienu jilagħbu l-bniet fl-antik?

2. Semmi żewġ (2) logħbiet li kienu jilagħbu s-subien fl-antik?

3. Semmi żewġ (2) passatemp li kellhom fl-antik:

4. X'inhum l-passatemp tiegħek?

5. Semmi żewġ passatemp moderni:

6. Semmi xi xogħol li kienu jagħmlu l-irġiel fl-antik:

(10 marki)

Festi u tradizzjonijiet Maltin

Taħriġ I: Poġġi dawn id-drawwiet taħt il-kolonna t-tajba.

figolli	purċissjoni bil-Bambin	ġirja bl-Irxox
qubbajt	purċissjoni bil-vara tal-patrun	nar tal-art
presepju	quddies ta' nofsillejl	qawmien mill-mewt

Milied	Għid il-Kbir	Festa tar-raġal

(9 marki)

Taħriġ J: Imla l-vojt f' dawn is-sentenzi dwar il-festa tal-Imnarja bil-kliem mogħti.

palju	29 ta' Ġunju	Buskett	San Pietru u San Pawl
wirjiet	Saqqajja	Gran Mastru	t-tlielaq

- Il-festa tal-Imnarja tiġi ċelebrata fid- 29 ta' Ġunju.
- Il-Knisja tfakkar il-qaddisin _____.
- Lejlet l-Imnarja ħafna nies jitolgħu l-_____ biex jagħmlu fenkata.
- Isiru _____ tal-bhejjem taħt is-_____ tar-Rabat.
- Il-_____ kien isegwihom mit-tribuna tiegħu.
- Fl-antik kien jingħata _____ bħala premju lir-rebbieħ.
- Isiru wkoll il-_____ tal-frott u l-ħxejjex. (7 marki)